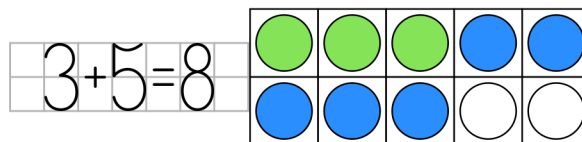


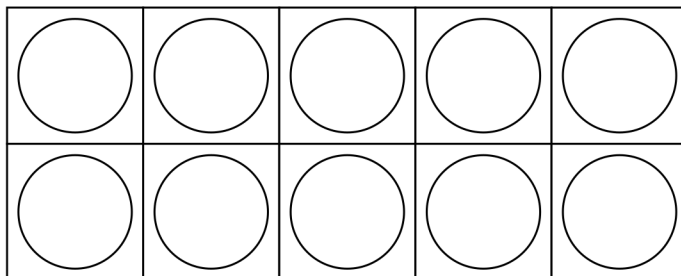
Dodawanie do 10 - ramki 10 [10]

Imię:

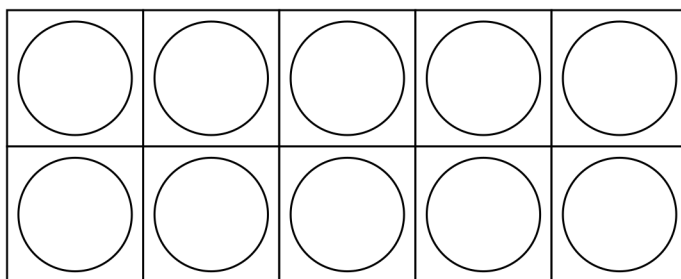
Wykonaj dodawanie. Wykorzystaj ramki, aby ułatwić sobie rozwiązanie zadania. Wybierz dwa różne kolory do pokolorowania kropek. Użyj pierwszego koloru dla pierwszej liczby w działaniu i drugiego koloru dla drugiej liczby.



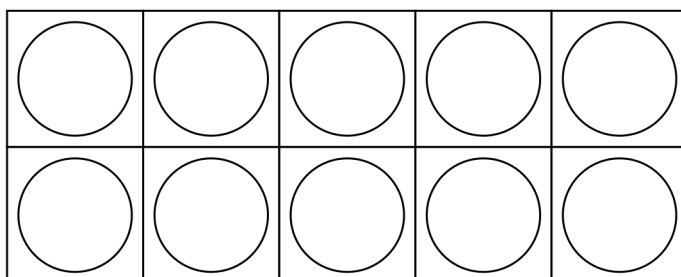
$1 + 5 =$



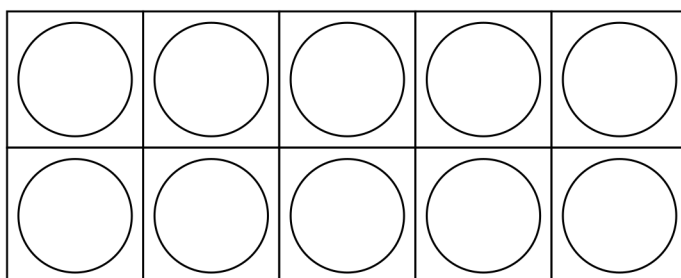
$3 + 2 =$



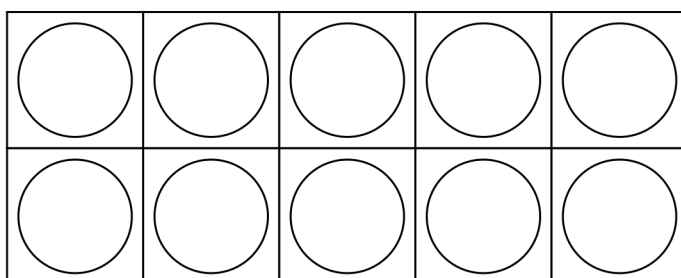
$4 + 4 =$



$6 + 4 =$



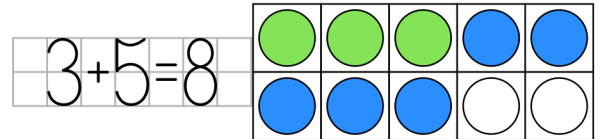
$2 + 5 =$



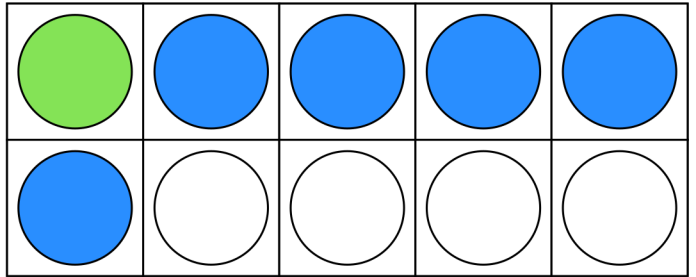
Dodawanie do 10 - ramki 10 [10]

Imię:

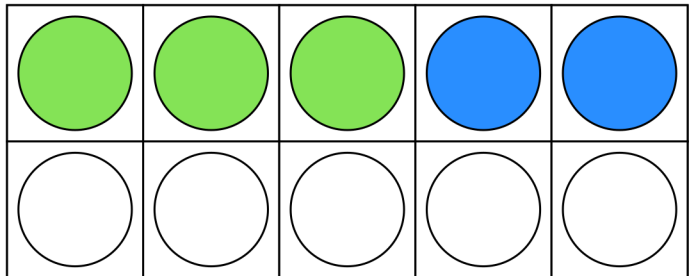
Wykonaj dodawanie. Wykorzystaj ramki, aby ułatwić sobie rozwiązanie zadania. Wybierz dwa różne kolory do pokolorowania kropek. Użyj pierwszego koloru dla pierwszej liczby w działaniu i drugiego koloru dla drugiej liczby.



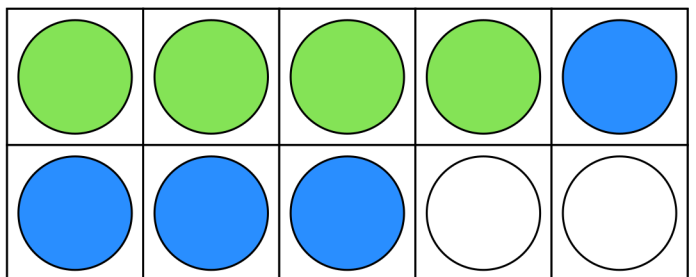
$$1 + 5 = 6$$



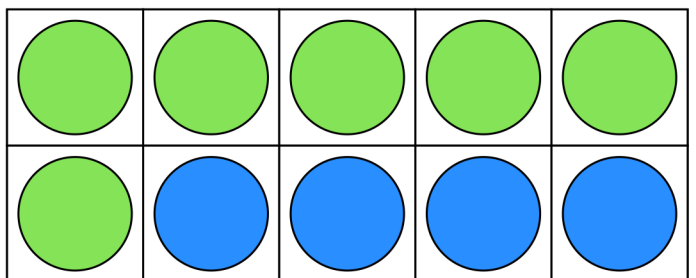
$$3 + 2 = 5$$



$$4 + 4 = 8$$



$$6 + 4 = 10$$



$$2 + 5 = 7$$

