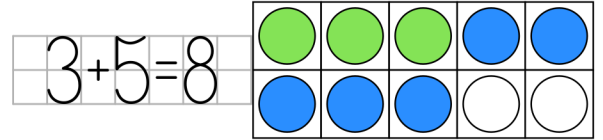


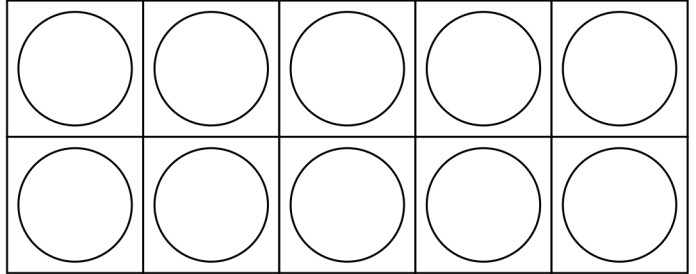
Dodawanie do 10 - ramki 10 [4]

Imię:

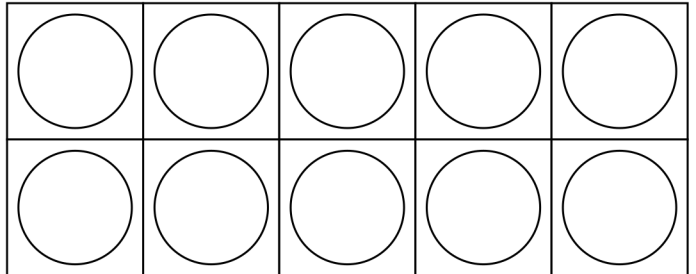
Wykonaj dodawanie. Wykorzystaj ramki, aby ułatwić sobie rozwiązanie zadania. Wybierz dwa różne kolory do pokolorowania kropek. Użyj pierwszego koloru dla pierwszej liczby w działaniu i drugiego koloru dla drugiej liczby.



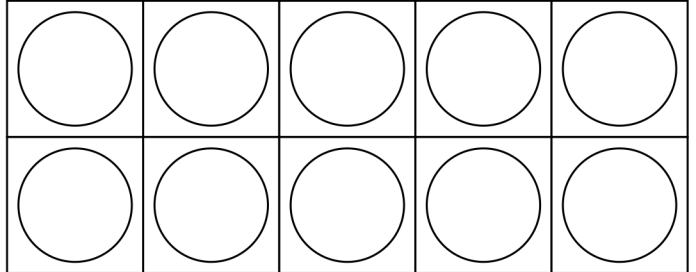
$2 + 1 =$



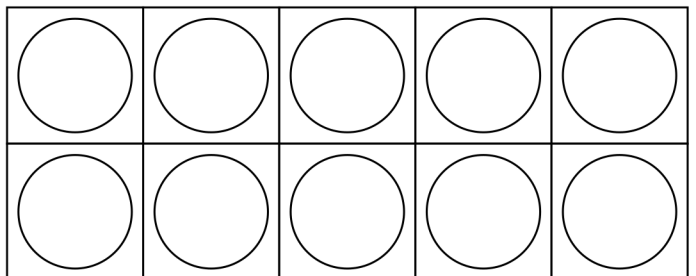
$3 + 2 =$



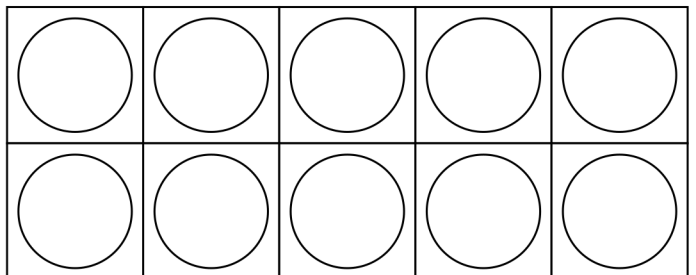
$1 + 3 =$



$2 + 4 =$



$4 + 3 =$



Dodawanie do 10 - ramki 10 [4]

Imię:

Wykonaj dodawanie. Wykorzystaj ramki, aby ułatwić sobie rozwiązanie zadania. Wybierz dwa różne kolory do pokolorowania kropek. Użyj pierwszego koloru dla pierwszej liczby w działaniu i drugiego koloru dla drugiej liczby.

3	+	5	=	8

2	+	1	=	3		

3	+	2	=	5		

1	+	3	=	4		

2	+	4	=	6		

4	+	3	=	7		
